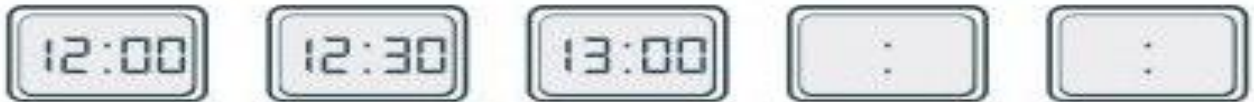


EJERCICIOS DE REPASO DE MATEMÁTICAS 3º

(SEMANA DEL 23 AL 29 DE MARZO)

Lunes, 23 de marzo del 2020

a) Continúa con la serie:



b) Coloca la hora correcta en estos relojes:



Ocho menos cinco AM - Tres en punto PM - Dos y cuarto AM - Seis menos veinte PM

Martes, 24 de marzo de 2020

$\begin{array}{r} 7923 \\ - 5994 \\ \hline \end{array}$	$\begin{array}{r} 78586 \\ + 25796 \\ \hline 2359 \end{array}$	$\begin{array}{r} 89325 \\ - 46026 \\ \hline \end{array}$	$\begin{array}{r} 53931 \\ - 7480 \\ \hline \end{array}$	$\begin{array}{r} 36359 \\ + 25987 \\ \hline 12654 \end{array}$
---	--	---	--	---

Miércoles, 25 de marzo de 2020

La panadería La Felisa hace 345 barras de pan cada hora. Todos los días trabajan durante 8 horas, pero ayer cerraron una hora antes. ¿Cuántas barras de pan hicieron ayer?

Josué y Laura tienen 8749 euros ahorrados. Se quieren comprar dos ordenadores último modelo y cada ordenador cuesta 2350 euros. ¿Cuánto dinero les quedará a Josué y Laura después de comprarse los ordenadores?


Jueves, 26 de marzo de 2020


Aplica la propiedad asociativa a esta multiplicación: $4 \times 2 \times 11$
Hazlo de las tres maneras posibles.

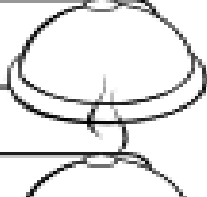
|

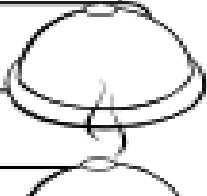
|

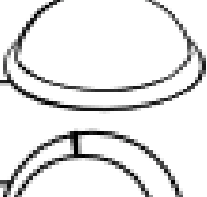
Escribe el resultado final tal y como hemos practicado en clase.

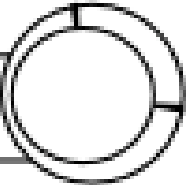
26 ⊖ ||| ○ — ○○○ || ⊖ |||| ○ ○ 

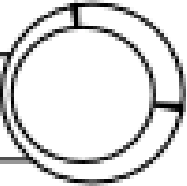
48 | ○ ⊖ ⊖ || ○ ⊖ ⊖ ○ ○ ○ ||| — | 

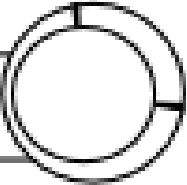
53 ○ ○ ○ ○ — ⊖ ⊖ || ○ ○ || — || 

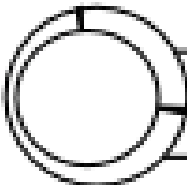

75 — ⊖ || ○ ⊖ ⊖ — — — |||| ○ 


65 || — ||| — ○ ○ ⊖ ○ ○ — — — || 

32 || ○ ○ ○ ○ ○ || ⊖ || — ○ ○ 

43 ⊖ ⊖ ⊖ || ○ ○ ⊖ ○ ○ |||| — 

52 — ||| — ○ ○ ⊖ ○ ○ ○ — | — || 

 ○ ○ — ⊖ ⊖ ||| — — — || ⊖ 46 

 | ○ ○ ⊖ — ○ — |||| ○ ⊖ — 66 