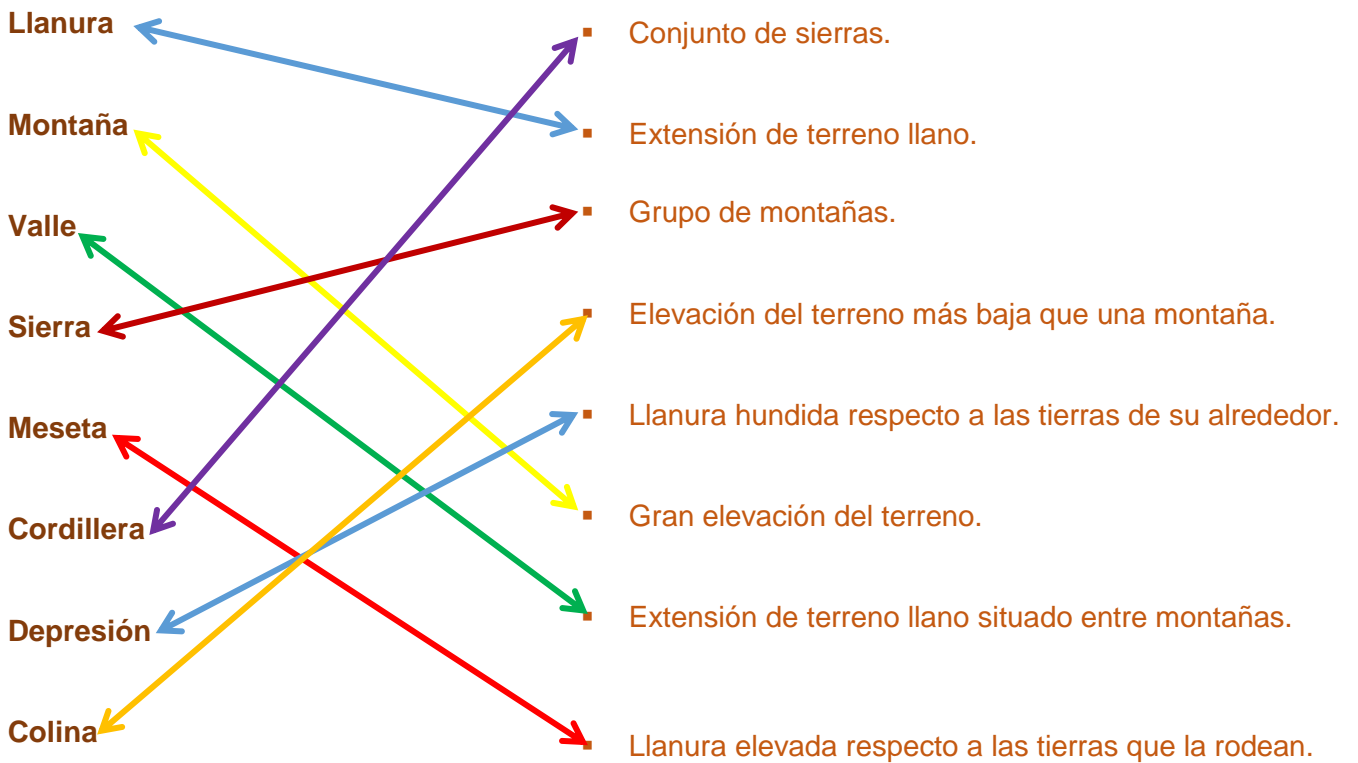


## EJERCICIOS DE 3º -CIENCIAS SOCIALES-

(Semana del 4 al 10 de mayo)

- **Lunes, 4 de mayo del 2020**

1. Une cada forma del paisaje de montaña y de llanura con su definición.



2. ¿Qué actividades estamos haciendo los humanos que están destruyendo el medio natural?  
(Lee la página 58 del libro, te ayudará).

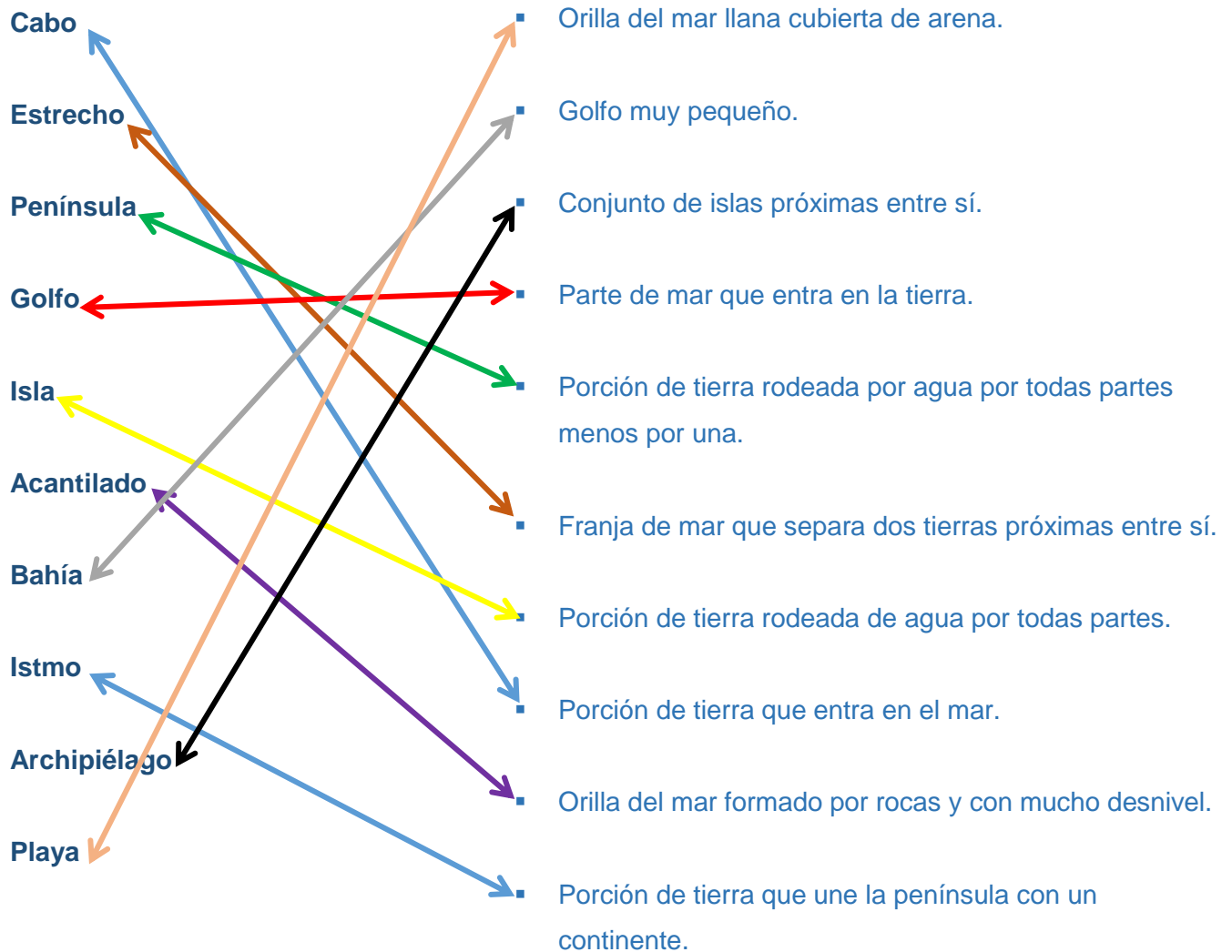
**LA CONTAMINACIÓN:** los seres humanos contaminamos con los desechos que arrojamos al medio natural, como las basuras y otros desperdicios.

**LA DEFORESTACIÓN:** la acción humana destruye grandes extensiones de bosques. Talamos para obtener madera o frutos, o para sustituir algunos árboles por otros más productivos. A veces, se provocan incendios con el objetivo de ampliar las tierras para el pasto del ganado o la especulación inmobiliaria.

**LA SOBREEXPLOTACIÓN:** es el consumo de grandes cantidades de algunos recursos naturales como los bosques, el agua, algunos minerales y algunos animales. Si los consumimos demasiado pueden llegar a agotarse.

▪ Martes, 5 de mayo del 2020

1. Une cada forma del paisaje de costa con su definición.



2. Escribe cinco consejos para evitar la contaminación del medio natural.


1. Recicla los residuos de tu hogar como el papel, envases o residuos orgánicos.
2. Utiliza los contenedores de forma correcta: pilas, aceite, ropa, orgánico, medicamentos, plástico, vidrio y papel o cartón.
3. Reutiliza los objetos o ropas dándoles una segunda vida.
4. Reduce el consumo de materiales innecesarios o de los cuales podemos prescindir.
5. Utiliza fuentes de energía renovables.

Vale cualquier cosa que se les ocurra que sirva para evitar la contaminación.

## EL PAISAJE DE MONTAÑA

- Fíjate bien en el dibujo y escribe en cada número la palabra correspondiente.

pueblo	bosque	sierra	valle	montaña	campos
cima	pueblo	prados	carretera	embalse	pie
nacimiento del río	túnel	ladera	río	cordillera	camino



- |               |                       |               |
|---------------|-----------------------|---------------|
| 1. cima       | 7. nacimiento del río | 13. campos    |
| 2. prados     | 8. pie                | 14. túnel     |
| 3. sierra     | 9. embalse            | 15. pueblo    |
| 4. cordillera | 10. bosque            | 16. río       |
| 5. montaña    | 11. valle             | 17. puente    |
| 6. ladera     | 12. camino            | 18. carretera |



## EL PAISAJE DE LLANURA

- Fíjate bien en el dibujo y escribe en cada número la palabra correspondiente.

campos de  
secano

canal

meseta

puede

casa aislada

bosque de  
ribera

bosque

ciudad

granja

camino

pueblo

río

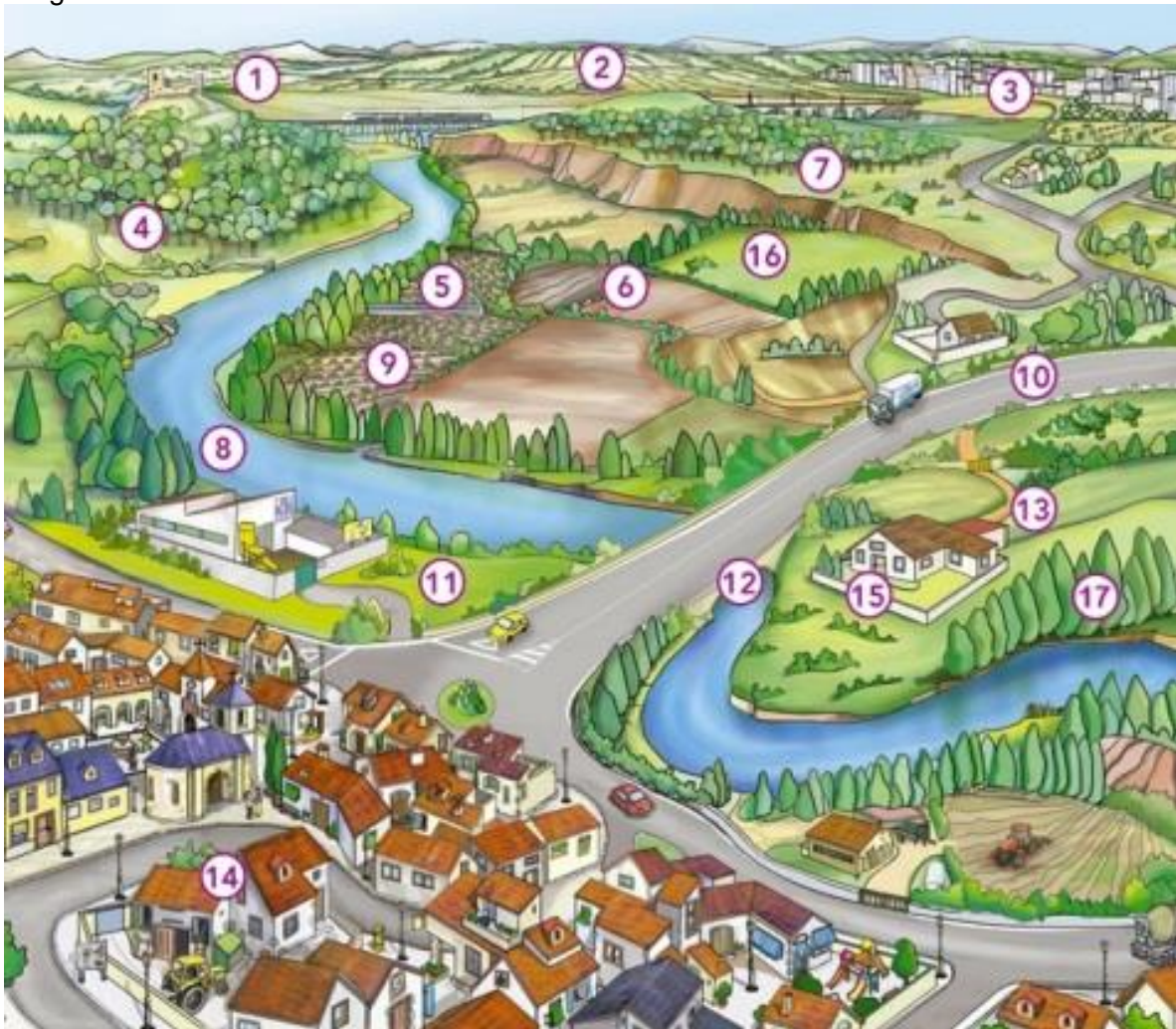
campos de  
regadío

carretera

llanura

colina

depresión



1. colina

2. campos de secano

3. ciudad

4. bosque

5. canal

6. llanura

7. meseta

8. río

9. campos de regadío

10. carretera

11. granja

12. puente

13. camino

14. pueblo

15. casa aislada

16. depresión

17. bosque de ribera

## EL PAISAJE DE COSTA

- Fíjate bien en el dibujo y escribe en cada número la palabra correspondiente.

río	estrecho	archipiélago	playa	industrias	bosque
golfo	isla	pueblo	bahía	urbanización	delta
puerto	ciudad	península	cabo	faro	istmo
mar	carretera	acantilado			



- |               |                  |                  |
|---------------|------------------|------------------|
| 1. río        | 8. bosque        | 15. urbanización |
| 2. industrias | 9. bahía         | 16. pueblo       |
| 3. ciudad     | 10. isla         | 17. faro         |
| 4. acantilado | 11. golfo        | 18. mar          |
| 5. carretera  | 12. istmo        | 19. cabo         |
| 6. delta      | 13. península    | 20. puerto       |
| 7. estrecho   | 14. archipiélago | 21. playa        |