

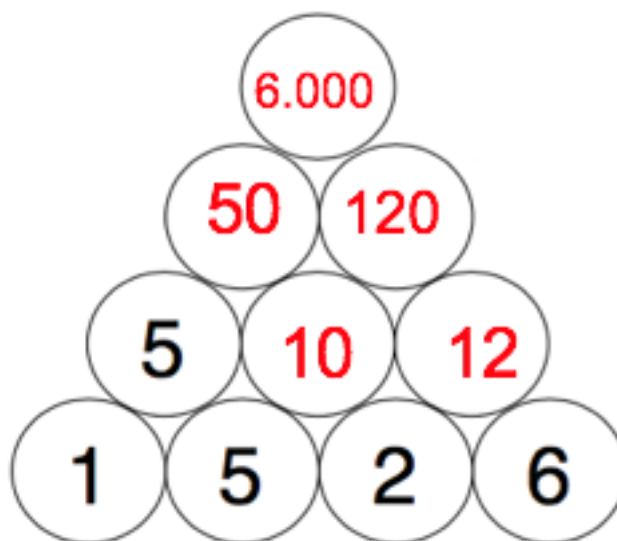
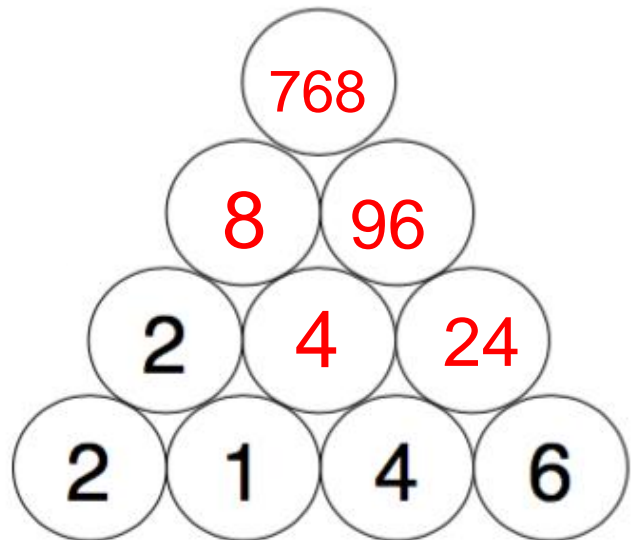
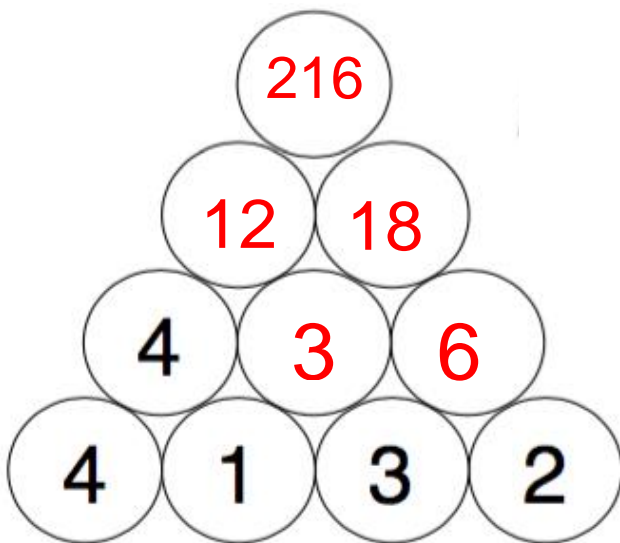
ACTIVIDADES DE REPASO DE MATEMÁTICAS 3º

(SEMANA DEL 4 AL 10 DE MAYO)

Lunes, 4 de mayo del 2020

Las pirámides secretas.

El número de cada círculo es la multiplicación de los dos números de abajo. ¿Eres capaz de resolver el secreto?



Martes, 5 de mayo de 2020

Calcula el resultado de estas operaciones.

$$\begin{array}{r} 52640 \\ - 23784 \\ \hline 28.856 \end{array}$$
$$\begin{array}{r} 6932 \\ + 35481 \\ \hline 47516 \\ + 39929 \\ \hline 89.929 \end{array}$$
$$\begin{array}{r} 93601 \\ - 37521 \\ \hline 56.080 \end{array}$$

Miércoles, 6 de mayo de 2020

- Mira este anuncio y calcula.



- Si he comprado dos televisores, una plancha y una cámara de fotos. ¿Cuánto me he gastado en total?

$$\begin{array}{r} 220 \\ \times 2 \\ \hline 440 \end{array}$$
$$\begin{array}{r} 440 \\ + 54 \\ \hline 548 \end{array}$$

Solución: 548 € me he gastado.

- Elena tiene 570 € ¿podrá comprar un frigorífico y una cafetera?

$$\begin{array}{r} 495 \\ + 67 \\ \hline 562 \end{array}$$

Solución: Sí podrá comprar un frigorífico y una cafetera. Le sobrarán 8 €.


Jueves, 7 de mayo de 2020


Resuelve las siguientes multiplicaciones.

$$\begin{array}{r} 8497 \\ \times 59 \\ \hline 76473 \\ + 42485 \\ \hline 501.323 \end{array}$$


$$\begin{array}{r} 9286 \\ \times 73 \\ \hline 27858 \\ + 65002 \\ \hline 677.878 \end{array}$$

Viernes, 8 de mayo de 2020

45 ||○○○○○ — — ⊖ ⊖||○○○  97

72 |||⊖⊖⊖ — — — ○○○○ |||  85

110 ⊖⊖⊖ — — — ⊖⊖⊖||○○|||  74

 102 |||○○○○ — — — ⊖⊖⊖||| 89

 101 |||||○○||⊖⊖⊖ — — — ⊖⊖⊖ 137